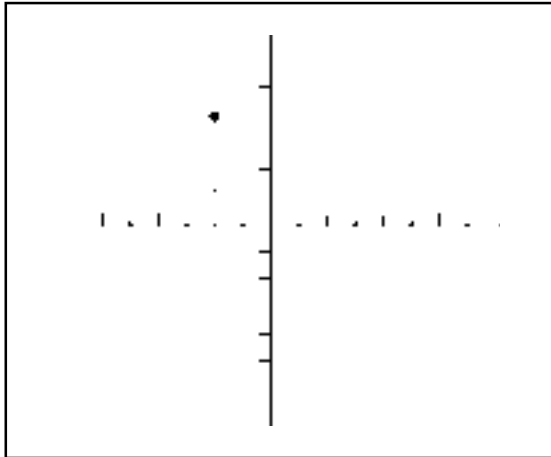


1. El punt dibuixat en aquests eixos té coordenades:

- a) (2,4) b) (-2,4)
 c) (4,2) d) (4,-2)



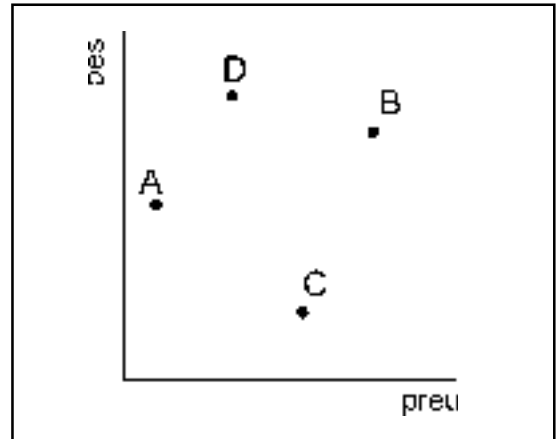
2. Un rectangle té tres vèrtexs consecutius en els punts A(3,2), B(-2,2) i C(-2,-1). El quart vèrtex té coordenades:

- a) (-1,3) b) (3,1)
 c) (3,-1) d) (2,-1)

3. Escribeu (V) o (F) segons siguin vertaderes o falses les afirmacions següents:

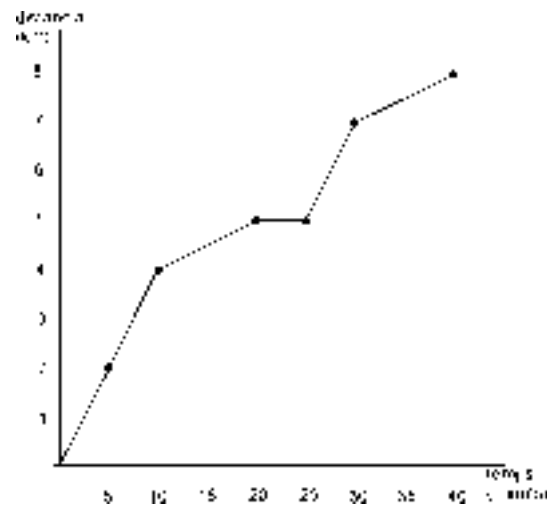
- a) L'eix vertical s'anomena eix d'ordenades.
 b) Els punts que estan situats a sobre l'eix d'abscisses tenen la primera coordenada igual a 0.
 c) Els punts (-2,2), (0,0) i (3,3) estan alineats.
 d) El punt (3,4) dista 3 unitats de l'eix d'abscisses i 4 unitats de l'eix d'ordenades.

4. En els eixos de coordenades següents tenim representats el preu i el pes de 4 caixes diferents de galetes (A, B, C i D). Associa cada frase amb una marca:



- a) La caixa que té el preu més barat.
 b) La caixa que té el preu més car.
 c) La caixa que pesa més.
 d) La caixa que pesa menys.

5. La Carla, que és molt esportista, ha sortit a córrer 8 km. Mirant el gràfic que et relaciona el temps que porta corrent amb la distància recorreguda pots saber si ha parat en algun moment?



- a) Sí, entre el minut 20 i 25.
 b) Sí, entre el minut 55 i 60.
 c) Sí, entre el minut 30 i 35.
 d) No, ha estat corrent tota l'estona.